

Van welke STEDEN is hier de SKYLINE afgebeeld?

VRAAG 1:




VRAAG 2:



VRAAG 3:

Van welke Europees land is dit het autokenteken?



VRAAG 4: Combineer de passende telefoonnummers

- | | |
|---------------------------------|---------------|
| 1) Niet-dringende brandweerhulp | |
| 2) Antigifcentrum | A) 106 |
| 3) Card-stop | B) 797204 |
| 4) Will Tura | C) 070/344344 |
| 5) Tele-onthaal | D) 070/245245 |
| | E) 1722 |

1 = 2 = 3 = 4 = 5 =

VRAAG 5: Rangschik van vroeger naar later:

- A Eerste man op de maan
- B Kernramp Tsjernobyl
- C 'I have a dream' (Martin Luther King)
- D Val van Berlijnse Muur

VRAAG 6: Rangschik van minder naar meer inwoners:

- A Zwitserland
- B Portugal
- C Noorwegen
- D België

Wetenschap


VRAAG 7:

Als we 350 gram appelpitjes zouden pletten en opeten, zouden we dat waarschijnlijk niet overleven. **Welke giftige stof** die ook in heel wat andere noten en pitten zit, is hiervoor verantwoordelijk?



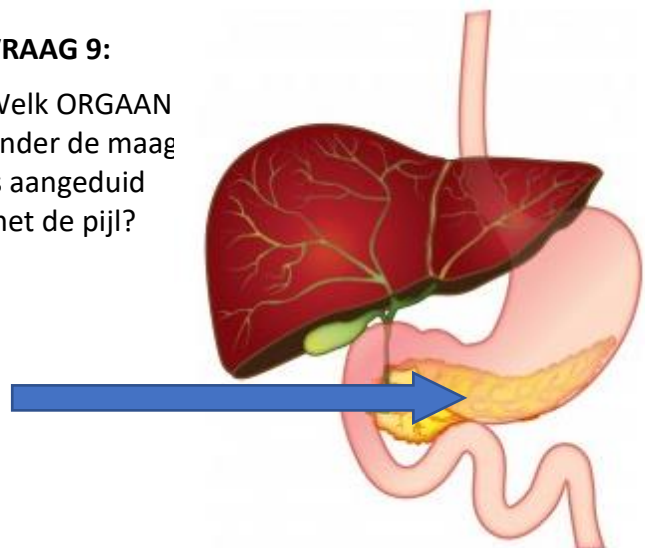
VRAAG 8:

De SI-eenheid van lengte is meter en de SI-eenheid van tijd is seconde. Wat is de **SI-eenheid van radioactiviteit**?



VRAAG 9:

Welk ORGAAN onder de maag is aangeduid met de pijl?



REKENEN en TELLEN:**VRAAG 10:**

Jan, Piet en Joris hebben samen 60 letterkoekjes.

Piet heeft 4 koekjes meer dan Jan.

Joris heeft er dubbel zoveel als Piet.

Hoeveel koekjes heeft Joris?

VRAAG 11:


Elke unieke letter is een uniek cijfer. Letter O is nul.

Welk **getal** moet op de plaats komen van de som 'MONEY'?

$$\begin{array}{r} \text{SEND} \\ + \text{MORE} \\ \hline \text{MONEY} \end{array}$$


VRAAG 12:

Hoeveel blokjes heb je nodig om aan te vullen tot een kubus van 5 x 5 x 5 blokjes?

**VRAAG 13:**

Bereken het volume van deze cilinder, met diameter 2 cm en hoogte 9 cm.

Antwoord in cm³ en met 2 cijfers na de komma.

ETEN EN DRINKEN:**VRAAG 14: Welke groente is dit?****VRAAG 15: Welk ingrediënt ontbreekt?**

--- COSMOPOLITAN ---

- Triple sec
- Limoensap
- Veenbessensap

Even shaken en uitschenken in een martiniglas!

DROEDEL:**VRAAG 16:**

BO G OR

VRAAG 17:

Qπ ≡

VRAAG 18:

Welke yogahouding is hier afgebeeld?




VRAAG 19:

Welk LIED heeft google translate hier vertaald (TITEL)?

*Nou, ik herinner me elk klein ding
 Alsof het pas gisteren gebeurde
 Parkeren bij het meer en er was geen andere auto in zicht
 En ik heb nooit een meisje gehad
 Er beter uitzien dan jij
 En alle kinderen op school
 Ze wensten dat ze mij die nacht waren
 En nu zijn onze lichamen oh zo dichtbij en strak
 Het voelde nog nooit zo goed, het voelde nog nooit zo goed
 En we gloeien als het metaal op de rand van een mes
 Gloeiend als het metaal op de rand van een mes
 Kom op vasthouden
 Oh kom op vasthouden*

VRAAG 20:

Van welke BAND zie je hier de platenhoes?



VRAAG 21: Van welke dichter is dit gedicht?

Dag ventje
 met de fiets op de vaas
 met de bloem ploem ploem
 Dag stoel naast de tafel
 Dag brood op de tafel
 Dag visserke-vis met de pijp
 en dag visserke-vis met de pet
 Pet en pijp van het visserke-vis
 Goeiedag

VRAAG 22:

Wie is de schrijver van dit boek?



VRAAG 23: Van wie is dit kunstwerk?



VRAAG 24: Van welke APP is dit het logo?



Van welke HYPES zie je hier een voorbeeld?

VRAAG 25:



VRAAG 26:



Geef de NAAM van de PERSONEN op de foto's:

VRAAG 27:



VRAAG 28:



VRAAG 29: →



VRAAG 30:



VRAAG 31:



VRAAG 32:



VRAAG 33:



VRAAG 34:



VRAAG 35:

